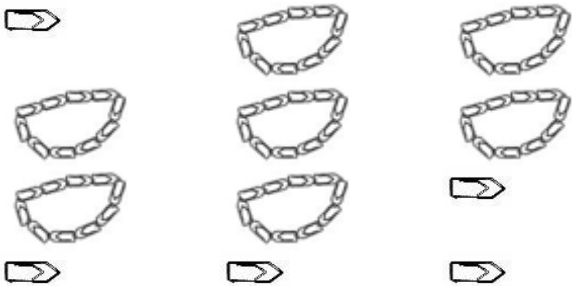


Les nombres jusque 99* - 999**

1 – Pour chaque collection écris le nombre d'objets :

Collection a*



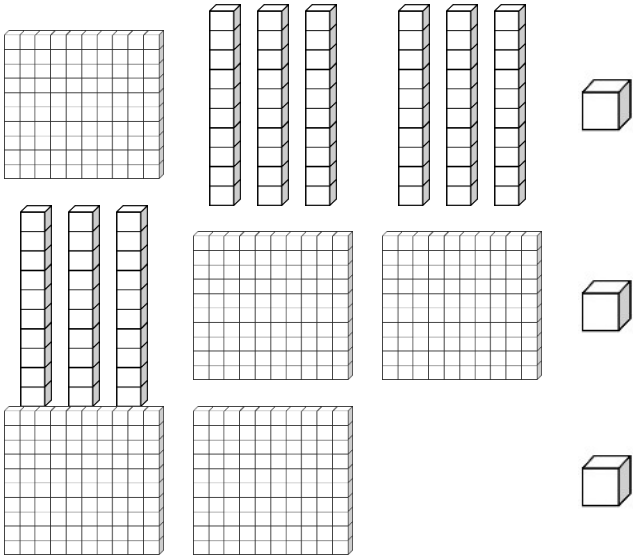
Il y a trombones.

Ecris ce nombre avec des mots :

.....

.....

Collection b**



Il y a cubes.


Ecris ce nombre avec des mots :

.....

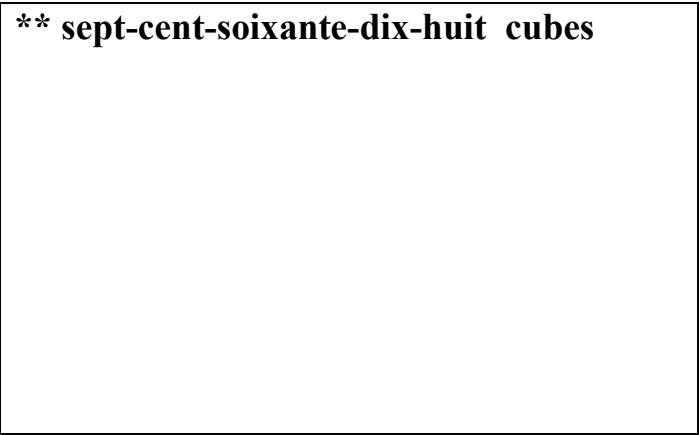
.....

2 – Dessine les collections suivantes :

*** quatre-vingt-douze cubes**



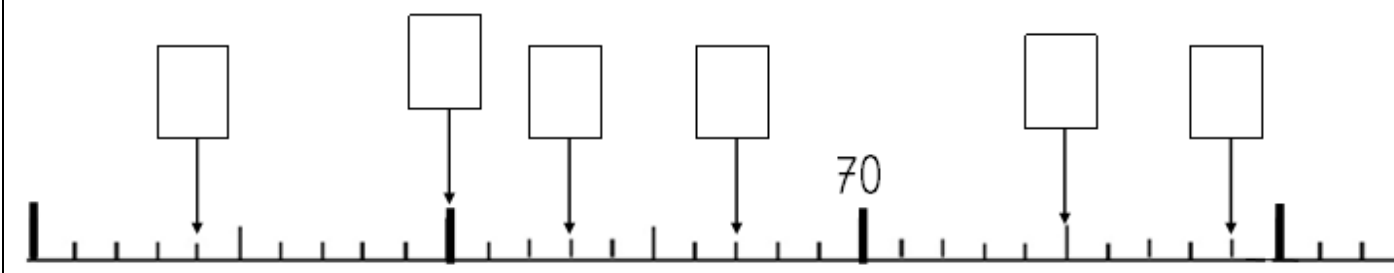
**** sept-cent-soixante-dix-huit cubes**



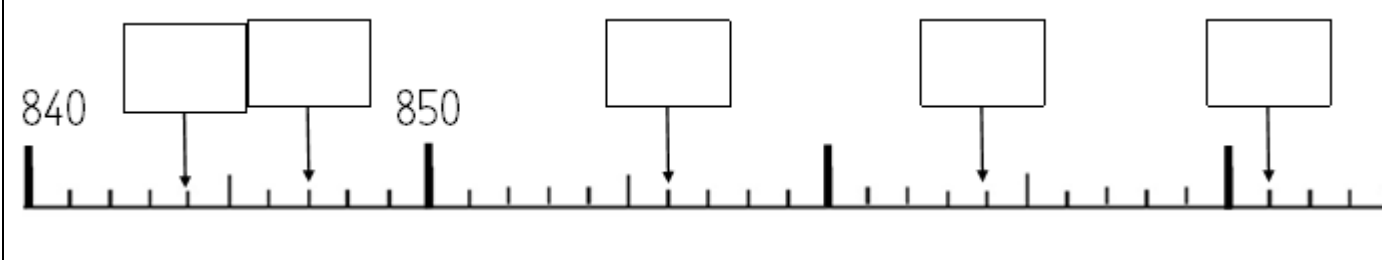
3 – Complète la suite des nombres :

			79*						
					58*				
				702**					
					897**				

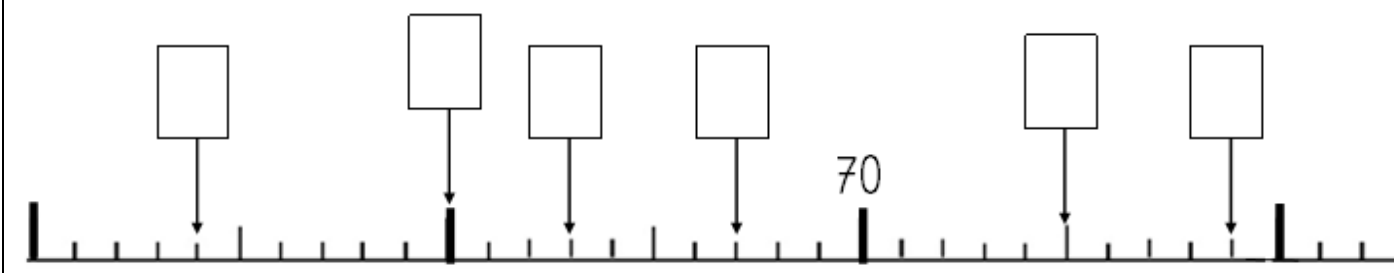
11* - Ecris les nombres.



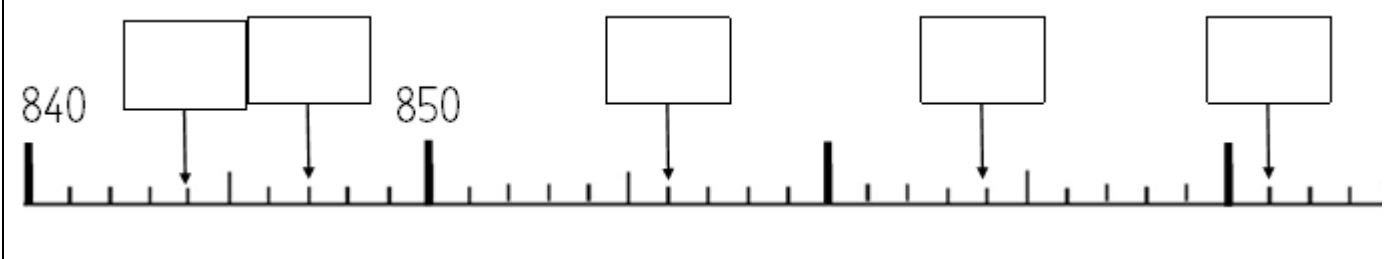
12 - Ecris les nombres.**



11* - Ecris les nombres.

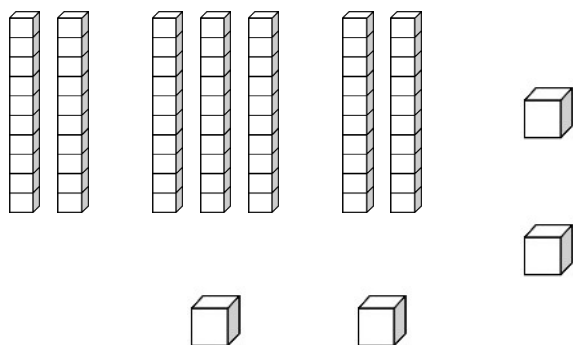


12 - Ecris les nombres.**



1 – Pour chaque collection écris le nombre d’objets :

Collection a*

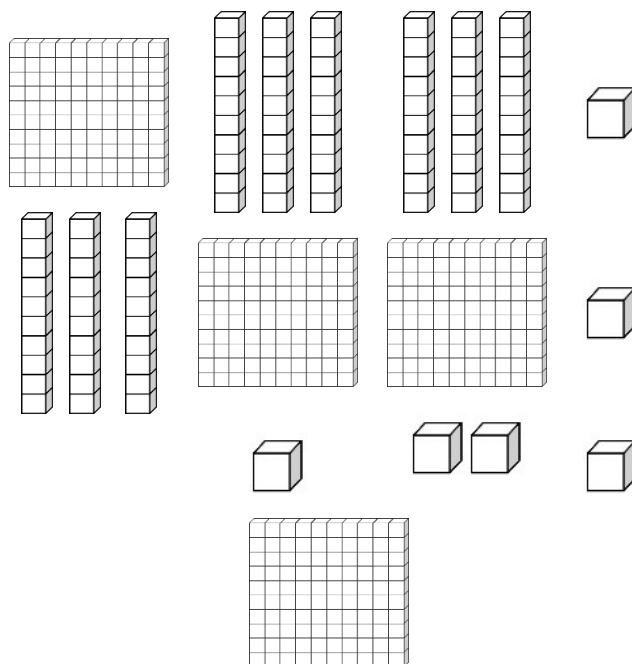


Il y a cubes.

Ecris ce nombre avec des mots :

.....

Collection b**



Il y a cubes.

Ecris ce nombre avec des mots :

.....

2 – Dessine les collections suivantes :

*** quatre-vingt-deux cubes**

**** cinq-cent-sept cubes**

3 – Complète la suite des nombres :

			79*						
--	--	--	-----	--	--	--	--	--	--

					58*				
--	--	--	--	--	-----	--	--	--	--

				739**					
--	--	--	--	-------	--	--	--	--	--

						400**			
--	--	--	--	--	--	-------	--	--	--

4 * – Dictée de nombres.

a*	b*	c*	d*	e*	f**	g**	h**	i**	j**

5 - Ecris ces nombres avec des chiffres :

a*	quatre-vingt-treize		f**	huit-cent-quatre-vingt-douze	
b*	quatre-vingt-six		g**	deux-cent-quatre-vingt-trois	
c*	soixante		h**	neuf-cent-cinq	
d*	quatre-vingt-dix-huit		i**	quatre-cents	
e*	soixante-quinze		j**	six-cent-quarante	

6 - Surligne le plus grand des deux nombres.

*						**					
58	63		79	85		97	89		854	799	
									635	602	
										899	901

7 – Ecris ces nombres avec des mots :

75*	
96*	
298**	
683**	

8 – Calcule.

a*	$10 + 10 + 10 + 10 + 10 + 10 + 10 + 1 + 1 + 1 + 1 =$
b*	$1 + 1 + 1 + 1 + 1 + 1 + 1 + 1 + 1 + 10 + 10 + 10 + 10 =$
c**	$40 + 600 =$
d**	$9 + 700 =$
e**	$30 + 600 + 8 =$

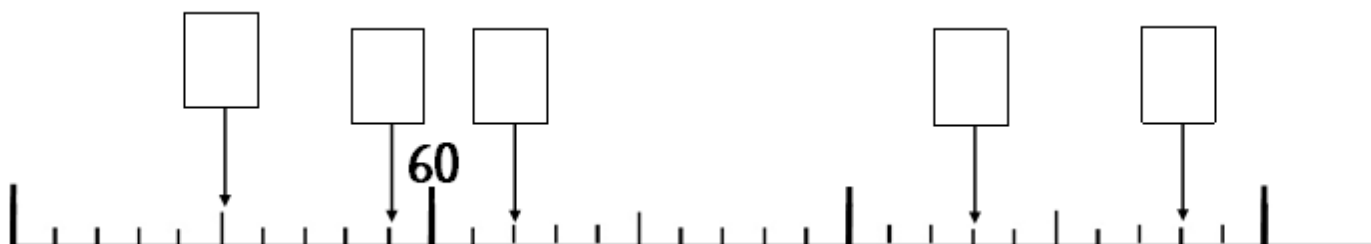
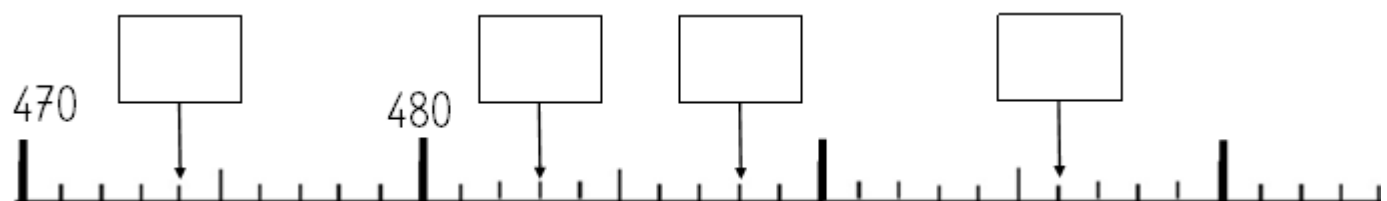
9 - Complète le tableau :

juste avant		juste après
	79 *	
	40 *	
	57 *	
	659 **	
	580 **	
	600 **	







10 – Encadre :**

dizaine avant		dizaine après
	647	

centaine avant		centaine après
	647	

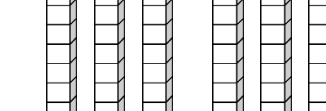
11* - Ecris les nombres.**12** - Ecris les nombres.**

Signature :

NA	PA	A	Prénom : / / 20 . . Evaluation <input type="checkbox"/> * aménagée <input type="checkbox"/> ** ordinaire
			* Maîtriser les nombres jusque 99
			**Maîtriser les nombres jusque 999

1 – Pour chaque collection écris le nombre d'objets :

Collection a*



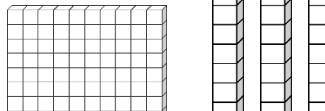
Il y a cubes.

Ecris ce nombre avec des mots :

.....

.....

Collection b**



Il y a cubes.

Ecris ce nombre avec des mots :

.....

.....

2 – Dessine les collections suivantes :

* quatre-vingt-seize cubes	** huit-cent-quatre cubes
-----------------------------------	----------------------------------

3 – Complète la suite des nombres :

			69*						
					78*				
				849**					
						700**			

4 * – Dictée de nombres.

a*	b*	c*	d*	e*	f**	g**	h**	i**	j**

5 - Ecris ces nombres avec des chiffres :

a*	quatre-vingt-seize		f**	neuf-cent-quatre-vingt-seize	
b*	quatre-vingt-deux		g**	six-cent-quatre-vingt-douze	
c*	soixante-dix		h**	neuf-cent-sept	
d*	quatre-vingt-quatorze		i**	six-cents	
e*	soixante-trois		j**	sept-cent-cinquante	

6 - Surligne le plus grand des deux nombres.

<p style="margin: 0;">*</p> <div style="display: flex; justify-content: space-around; align-items: center;"> <div style="border: 1px solid black; padding: 2px 10px;">75</div> <div style="border: 1px solid black; padding: 2px 10px;">63</div> <div style="border: 1px solid black; padding: 2px 10px;">27</div> <div style="border: 1px solid black; padding: 2px 10px;">72</div> <div style="border: 1px solid black; padding: 2px 10px;">89</div> <div style="border: 1px solid black; padding: 2px 10px;">91</div> </div>	<p style="margin: 0;">**</p> <div style="display: flex; justify-content: space-around; align-items: center;"> <div style="border: 1px solid black; padding: 2px 10px;">542</div> <div style="border: 1px solid black; padding: 2px 10px;">784</div> <div style="border: 1px solid black; padding: 2px 10px;">852</div> <div style="border: 1px solid black; padding: 2px 10px;">799</div> <div style="border: 1px solid black; padding: 2px 10px;">905</div> <div style="border: 1px solid black; padding: 2px 10px;">987</div> </div>
--	---

7 – Ecris ces nombres avec des mots :

72*	
98*	
593**	
789**	

8 – Calcule.

a*	$10 + 10 + 10 + 10 + 10 + 10 + 10 + 10 + 1 + 1 + 1 + 1 =$
b*	$1 + 1 + 1 + 1 + 1 + 1 + 10 + 10 + 10 + 10 =$
c**	$30 + 700 =$
d**	$8 + 500 =$
e**	$60 + 900 + 7 =$

9 - Complète le tableau :

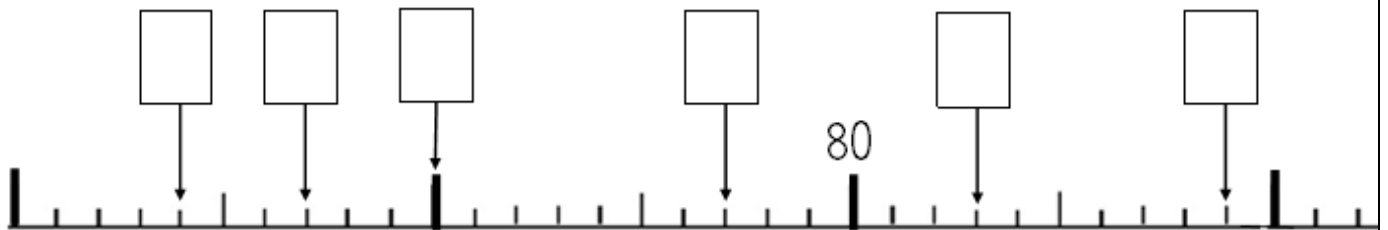
juste avant		juste après
	89 *	
	30 *	
	63 *	
	679 **	
	570 **	
	800 **	

10** – Encadre :

dizaine avant		dizaine après
	527	

centaine avant		centaine après
	527	

11* - Ecris les nombres.



12** - Ecris les nombres.

