

Comment vivait l'homme de Tautavel ?

Caractériser et situer dans le temps un peuple ayant vécu en France, les hommes de Tautavel.

1 - Etude de documents présentés au tableau

Document A	Où a-t-on retrouvé des traces d'hommes préhistoriques en France ?
------------	---

Présentation de la grotte de Tautavel et de l'homme préhistorique qui y a vécu :

C'est dans une grotte des Pyrénées que l'on a trouvé les traces de l'un des plus vieux habitants sur le sol français : l'homme de Tautavel. Il vivait il y a plus de 450 000 ans au Paléolithique (la plus ancienne période de la Préhistoire), les hommes sont nomades, c'est-à-dire qu'ils se déplacent en fonction des saisons et du mouvement des troupeaux qu'ils chassent. Ils s'abritent à l'entrée des grottes.

La grotte de l'Homme de Tautavel est l'un des plus importants gisements préhistoriques du monde.

Située à proximité du village de Tautavel, cette grotte perchée qui domine la vallée abrite l'un des plus gros gisements préhistoriques du monde.

En juillet 1971, l'équipe du professeur Henry de Lumley découvre après 7 années de fouilles méthodiques un crâne.

Depuis, les fouilles annuelles ont révélé plus de 100 autres fossiles humains (visibles au Musée de la Préhistoire de Tautavel).

Ces vestiges ont permis de reconstituer la vie et l'environnement de ces groupes d'Homo erectus qui fréquentèrent cette grotte de 550 000 à 300 000 ans avant notre ère.

Le Paléolithique est la première période de la Préhistoire. Cette période est la plus longue, elle commence avec l'apparition de l'Homme, il y a environ 3 millions d'années et s'achève vers 10 000 ans avant le présent.

Le Paléolithique est suivi par le Néolithique. Le terme « Paléolithique » vient du grec *palaaios* (qui veut dire *ancien*) et *lithos* (qui veut dire *pierre*). C'est « l'âge de la pierre taillée » (le Néolithique est l'âge de la pierre polie).

600 000 ans de variations climatiques y sont également archivés.

Les activités du chantier de fouille sont gérées par le Centre Européen de Recherches Préhistoriques.

A retenir :

Tautavel est un village situé dans les Pyrénées Orientales.

On y a découvert des vestiges du plus vieil habitant de notre territoire.

Cette époque est appelée par les historiens « le paléolithique » ou l'âge de la pierre taillée.

Document B	A quoi ressemblait l'homme de Tautavel ?
------------	--

D'après les archéologues, l'homme de Tautavel mesurait 1m60. Cet Homo erectus avait toutes les caractéristiques des premiers européens : un front fuyant, un bourrelet au-dessus des orbites, des pommettes saillantes et une mâchoire avancée.

Insister sur l'authenticité du crâne par rapport à la reconstitution inventée du visage de l'homme.

Document C	A quelle espèce appartenait l'homme de Tautavel ?
------------	---

Reconstitution des différentes espèces humaines

Quelles sont les différentes espèces humaines ?

Homo habilis, Homo erectus, homme de Neandertal, Homo sapiens.

Identifier les changements :

- Taille des personnages : de plus en plus grands ;
- allure : de plus en plus droits ;
- disparition progressive de la pilosité ;
- vêtements : sans, puis peaux de bêtes nouées, peaux de bêtes cousues, tissus et coupe élaborée ;
- outils : morceaux de bois, pierres taillées, javelot, flèche avec propulseur.

Préciser que les hommes vivant il y a 450 000 ans à Tautavel ne connaissaient pas encore le feu.

Quand peut-on parler d'êtres humains ?

On parle d'êtres humains quand les premiers outils apparaissent. Ils sont la preuve d'une intelligence capable de fabriquer un objet adapté à des besoins précis.

A retenir :

L'homme de Tautavel appartient à l'espèce Homo erectus. Les êtres humains vivant à Tautavel il y a 450 000 ans ne connaissaient pas encore le feu.

Document D	Comment vivait l'homme de Tautavel ?
------------	--------------------------------------

Les outils

Les matériaux composant les outils retrouvés sont très variés : calcaire, quartz, silex, grès, dont les gisements se trouvaient dans un rayon de 30 km autour de la grotte.

Ces outils sont des choppers (galets aménagés, présentant un bord tranchant), des bifaces (pierres taillées plus ou moins symétriques), des racloirs (pierres taillées pour dépecer les animaux), des pointes, des enclumes, des percuteurs (pierres pour détacher des éclats d'un bloc de silex).

Certains outils permettent de désarticuler le gibier ou fracturer les ossements. D'autres, plus tranchants, servent à dépouiller et découper le gibier et parfois racler les peaux.

Un chasseur cueilleur

Malgré le caractère rudimentaire de son outillage, l'homme de Tautavel parvient à chasser de nombreuses espèces d'animaux, comme le prouvent les ossements retrouvés sur le site, comptant au moins 11 espèces différentes. Par ailleurs, la situation des fossiles laisse penser qu'au sein de la grotte, les espaces sont organisés de façon fonctionnelle : un espace pour les déchets, un pour la taille des outils et le traitement du gibier et un dédié aux repas.

Que nous apprend la grotte de Tautavel ?

A ton avis, pourquoi l'homme de Tautavel a choisi de faire halte dans cette grotte ? En quoi est-elle intéressante ?

- L'homme de Tautavel a très certainement fait halte dans cette grotte pour se protéger du froid et des intempéries.

Préciser que le froid qui règne à cette période impose aux chasseurs de Tautavel de changer de lieux d'habitation et de chasse en fonction des saisons. Durant les hivers, ils s'abritent à l'entrée des grottes. Au printemps ils suivent les troupeaux de gibier. Ils construisent alors des tentes en peaux de bêtes et des huttes en branchages pour établir leur campement.

L'homme de Tautavel était donc nomade.

- La grotte est en hauteur, on voit de loin pour guetter les animaux, il disposait de la plaine et du plateau avec ses animaux.

- L'homme de Tautavel avait accès à l'eau avec la rivière où il pouvait pêcher.

Faire remarquer les outils, les vêtements en fourrure en raison du froid, l'alimentation à base de viande crue.

A retenir :

L'homme de Tautavel vivait de la chasse, de la pêche et de la cueillette. Les outils permettaient de couper la viande et de tailler les peaux. Il mangeait la viande crue.

L'homme de Tautavel vivait à l'entrée des grottes.

L'homme de Tautavel était nomade, c'est-à-dire qu'il se déplaçait sans cesse.

2 - Fiche d'exercices

3 - Vidéo projetée au TNI

Mister Di

<https://www.youtube.com/watch?v=p3TR2M62ubU>

4 – Trace écrite

1 - Dessine un petit rond à l'endroit où se situe la grotte de Tautavel.



2 - Vrai ou faux ?

- a – La grotte de Tautavel est située dans le Nord de la France.
- b – L'homme de Tautavel faisait cuire ses aliments.
- c – L'homme de Tautavel chassait pour se nourrir.
- d – La grotte de Tautavel était habitée toute l'année par les mêmes hommes.
- e – L'homme de Tautavel a vécu il y a 450 000 ans.
- f – L'homme de Tautavel taillait ses outils en pierre.

3 – Surligne la bonne réponse.

L'homme de Tautavel appartient à l'espèce :	homo habilis	homo erectus	homo sapiens
L'homme de Tautavel fabriquait :	des clés à molette	des racloirs	des couteaux
	des bifaces	des tournevis	des haches
L'homme de Tautavel mangeait la viande :	crue	cuite	
L'homme de Tautavel mangeait :	du poisson	des pâtes	des racines
	des yaourts	des fruits	du saucisson

4 – Ecris les noms de ces animaux chassés par l'homme de Tautavel.



le b - - - -



le c - - - -



le l - - -



le r - - - -



le l - - -



le m - - - - -

1 - Dessine un petit rond à l'endroit où se situe la grotte de Tautavel.



2 - Vrai ou faux ?

- a – La grotte de Tautavel est située dans le Nord de la France. **F**
- b – L'homme de Tautavel faisait cuire ses aliments. **F**
- c – L'homme de Tautavel chassait pour se nourrir. **V**
- d – La grotte de Tautavel était habitée toute l'année par les mêmes hommes. **F**
- e – L'homme de Tautavel a vécu il y a 450 000 ans. **V**
- f – L'homme de Tautavel taillait ses outils en pierre. **V**

3 – Surligne la bonne réponse.

L'homme de Tautavel appartient à l'espèce :	homo habilis	homo erectus	homo sapiens
L'homme de Tautavel fabriquait :	des clés à molette	des racloirs	des couteaux
	des bifaces	des tournevis	des haches
L'homme de Tautavel mangeait la viande :	crue	cuite	
L'homme de Tautavel mangeait :	du poisson	des pâtes	des racines
	des yaourts	des fruits	du saucisson


4 – Ecris les noms de ces animaux chassés par l'homme de Tautavel.



le bison



le castor



le lynx



le renne




le loup



le mouflon

L'homme de Tautavel



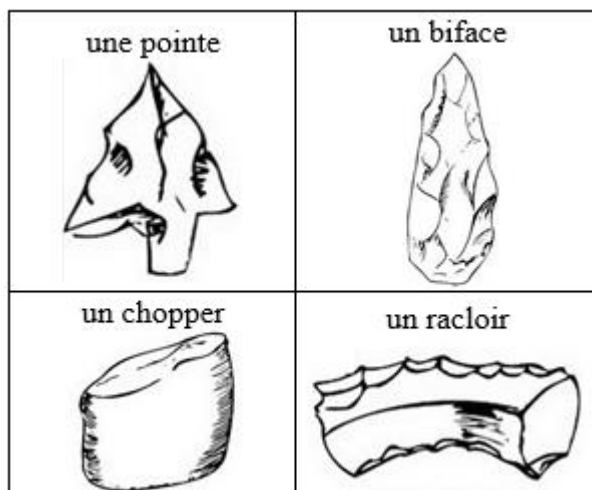
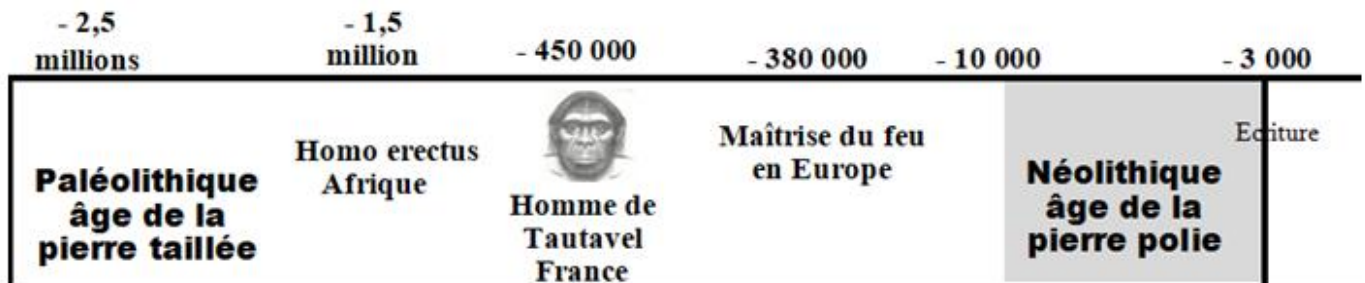
Tautavel est un village situé dans les Pyrénées Orientales.

On y a découvert les vestiges du plus vieil habitant de notre territoire, appelé l'homme de Tautavel. Il vivait il y a plus de 450 000 ans, au Paléolithique (âge de la pierre taillée). L'homme de Tautavel appartient à l'espèce Homo erectus. L'homme de Tautavel vivait de la chasse, de la pêche et de la cueillette. Les outils permettaient de couper la viande et tailler les peaux. L'homme de Tautavel était nomade.

Lexique :

archéologue : c'est une personne dont le métier est de rechercher et étudier les traces du passé.

nomade : à cette époque les hommes se déplacent en fonction des saisons et du mouvement des troupeaux d'animaux qu'ils chassent.



L'homme de Tautavel

Tautavel est un village situé dans les Pyrénées Orientales.

On y a découvert les vestiges du plus vieil habitant de notre territoire, appelé l'homme de Tautavel. Il vivait il y a plus de 450 000 ans, au Paléolithique (âge de la pierre taillée). L'homme de Tautavel appartient à l'espèce Homo erectus. L'homme de Tautavel vivait de la chasse, de la pêche et de la cueillette. Les outils permettaient de couper la viande et tailler les peaux. L'homme de Tautavel était nomade.

Lexique :

archéologue : c'est une personne dont le métier est de rechercher et étudier les traces du passé.

nomade : à cette époque les hommes se déplacent en fonction des saisons et du mouvement des troupeaux d'animaux qu'ils chassent.

L'homme de Tautavel


Tautavel est un village situé dans les Pyrénées Orientales.


On y a découvert les vestiges du plus vieil habitant de notre territoire, appelé l'homme de Tautavel. Il vivait il y a plus de 450 000 ans, au Paléolithique (âge de la pierre taillée). L'homme de Tautavel appartient à l'espèce Homo erectus. L'homme de Tautavel vivait de la chasse, de la pêche et de la cueillette. Les outils permettaient de couper la viande et tailler les peaux. L'homme de Tautavel était nomade.


Lexique :


archéologue : c'est une personne dont le métier est de rechercher et étudier les traces du passé.


nomade : à cette époque les hommes se déplacent en fonction des saisons et du mouvement des troupeaux d'animaux qu'ils chassent.




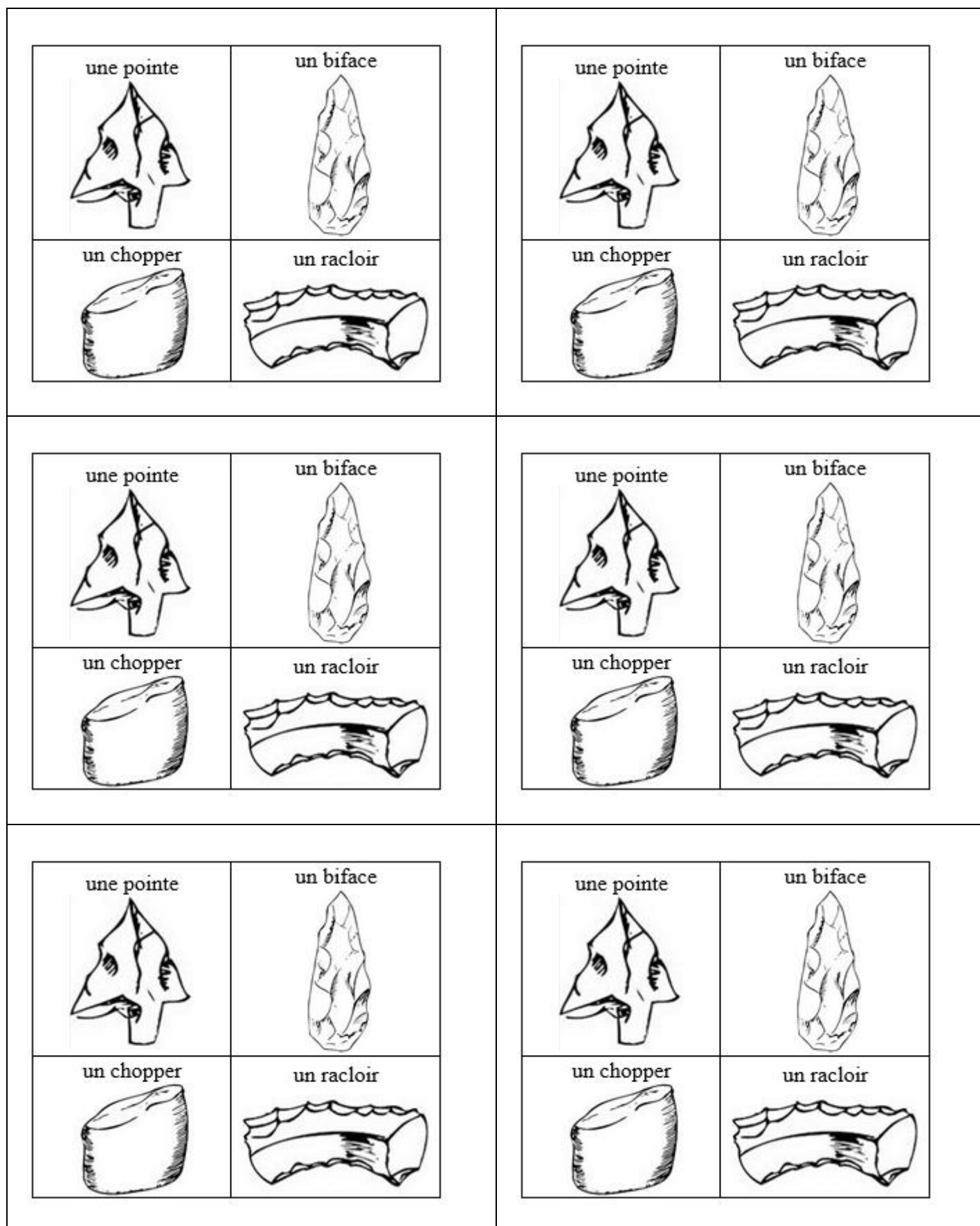
- 2,5 millions	- 1,5 million	- 450 000	- 380 000	- 10 000	- 3 000
Paléolithique âge de la pierre taillée	Homo erectus Afrique	 Homme de Tautavel France	Maîtrise du feu en Europe	Néolithique âge de la pierre polie	Écriture

- 2,5 millions	- 1,5 million	- 450 000	- 380 000	- 10 000	- 3 000
Paléolithique âge de la pierre taillée	Homo erectus Afrique	 Homme de Tautavel France	Maîtrise du feu en Europe	Néolithique âge de la pierre polie	Écriture


- 2,5 millions	- 1,5 million	- 450 000	- 380 000	- 10 000	- 3 000
Paléolithique âge de la pierre taillée	Homo erectus Afrique	 Homme de Tautavel France	Maîtrise du feu en Europe	Néolithique âge de la pierre polie	Écriture

- 2,5 millions	- 1,5 million	- 450 000	- 380 000	- 10 000	- 3 000
Paléolithique âge de la pierre taillée	Homo erectus Afrique	 Homme de Tautavel France	Maîtrise du feu en Europe	Néolithique âge de la pierre polie	Écriture

- 2,5 millions	- 1,5 million	- 450 000	- 380 000	- 10 000	- 3 000
Paléolithique âge de la pierre taillée	Homo erectus Afrique	 Homme de Tautavel France	Maîtrise du feu en Europe	Néolithique âge de la pierre polie	Écriture

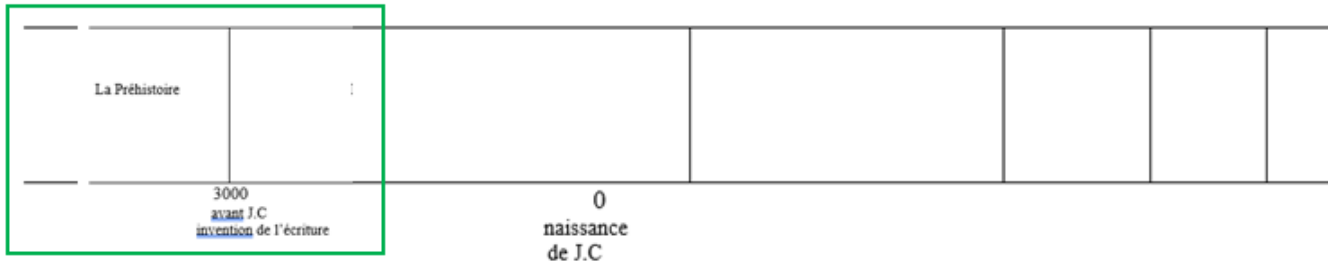


Pour être au point sur la leçon sur l'homme de Tautavel ...

<input type="checkbox"/> Je dois savoir situer la Préhistoire sur une frise chronologique et savoir par quel événement elle se termine.	
<input type="checkbox"/> Je dois savoir situer Tautavel sur une carte de France 	<input type="checkbox"/> Je dois savoir citer deux raisons pour lesquelles l'homme de Tautavel a choisi cette grotte.
<input type="checkbox"/> Je dois savoir de quoi il vivait (3 choses).	<input type="checkbox"/> Je dois savoir citer l'espèce de l'homme de Tautavel.
<input type="checkbox"/> Je dois savoir quel était son mode de vie et l'expliquer.	<input type="checkbox"/> Je dois savoir à quel moment il a vécu et comment s'appelle cette période de la Préhistoire.
<input type="checkbox"/> Je dois savoir ce qui montrait l'intelligence de l'homme de Tautavel.	<input type="checkbox"/> Je dois savoir citer 2 animaux chassés par l'homme de Tautavel.
<input type="checkbox"/> Je dois savoir citer deux outils fabriqués par l'homme de Tautavel.	<input type="checkbox"/> Je dois savoir expliquer ce qu'est un archéologue.

Pour être au point sur la leçon sur l'homme de Tautavel ...

☐ Je dois savoir situer la Préhistoire sur une frise chronologique et savoir par quel événement elle se termine.



☐ Je dois savoir situer Tautavel sur une carte de France



☐ Je dois savoir citer deux raisons pour lesquelles l'homme de Tautavel a choisi cette grotte.

Elle était située en hauteur.
Elle se situait à proximité d'une rivière.

☐ Je dois savoir de quoi il vivait (3 choses).

Il vivait de la chasse, de la pêche et de la cueillette.

☐ Je dois savoir citer l'espèce de l'homme de Tautavel.

Il appartenait à l'espèce *Homo erectus*.

☐ Je dois savoir quel était son mode de vie et l'expliquer.

Il était nomade, c'est-à-dire qu'il n'habitait jamais au même endroit.

☐ Je dois savoir à quel moment il a vécu et comment s'appelle cette période de la Préhistoire.

Il a vécu il y a plus de 450 000 ans, au Paléolithique.

☐ Je dois savoir ce qui montrait l'intelligence de l'homme de Tautavel.

Il fabriquait des outils.

☐ Je dois savoir citer 2 animaux chassés par l'homme de Tautavel.

Il chassait les bisons, les lynx, les castors, les rennes, les loups, les mouflons.




☐ Je dois savoir citer deux outils fabriqués par l'homme de Tautavel.

Il fabriquait des pointes, des racloirs, des choppers et des bifaces.

☐ Je dois savoir expliquer ce qu'est un archéologue.

C'est une personne dont le métier est de rechercher et étudier les traces du passé.

Signature :

NA	PA	A	Prénom : / / 20 . . Evaluation <input type="checkbox"/> * aménagée <input type="checkbox"/> ** ordinaire
			Avoir des connaissances concernant la Préhistoire et l'homme de Tautavel.

1 – Trace un point sur la carte de France, à l'endroit où se situe Tautavel :



2 – Cite deux raisons pour lesquelles l'homme de Tautavel a choisi cette grotte :

.....

.....

.....

.....

.....

.....

.....

.....

3 – De quoi vivait l'homme de Tautavel ?

.....

.....

4 – A quelle espèce appartient l'homme de Tautavel ?

.....

.....

5 – Quel était le mode vie de l'homme de Tautavel ? Explique ce que cela veut dire.

.....

.....

.....

.....

.....

.....

6 – A quel moment a vécu l'homme de Tautavel ? Comment s'appelle cette période de la Préhistoire ?

.....

.....

.....

.....

7 – Qu'est-ce qui montrait l'intelligence de l'homme de Tautavel ?

.....

.....

.....

8 – Cite deux animaux chassés par l'homme de Tautavel :

.....

.....

9 – Cite deux outils fabriqués par l'homme de Tautavel :

.....

.....




10 – Explique ce qu'est un archéologue :

.....

.....

11 – Ecris « Préhistoire » dans le bon morceau de la frise.
Ecris la date et l'événement qui marquent la fin de la préhistoire.

Signature :

NA	PA	A	Prénom : / / 20 . .
			Evaluation <input type="checkbox"/> * aménagée <input type="checkbox"/> ** ordinaire
			Avoir des connaissances concernant la Préhistoire et l'homme de Tautavel.

1 – Trace un point sur la carte de France, à l'endroit où se situe Tautavel :



2 – Surligne les raisons pour lesquelles l'homme de Tautavel a choisi cette grotte :

- | |
|--|
| Pour se protéger du froid. |
| Pour ne pas être gêné par les voisins. |
| Pour avoir accès à l'eau avec la rivière où il pouvait pêcher. |
| Pour pouvoir organiser des barbecues. |
| Pour voir de loin ses enfants qui jouent au toboggan. |
| Pour voir de loin les animaux. |
| Parce que cette grotte est proche d'une autoroute. |
| Parce que cette grotte est proche de la plaine et du plateau avec ses animaux. |

3 – De quoi vivait l'homme de Tautavel ? Surligne les bonnes réponses.

Agriculture	Chasse	Faire les courses
Cueillette	Elevage	Pêche

4 – A quelle espèce appartient l'homme de Tautavel ? Surligne la bonne réponse.

Homo sapiens	Homme de Neandertal	Homo erectus
Homme de Cro-Magnon	Homo habilis	Homo modernus

5 – Quel était le mode vie de l'homme de Tautavel ? Explique ce que cela veut dire. Surligne les bonnes réponses.

Nomade	A cette époque les hommes se déplacent en fonction des saisons et du mouvement des troupeaux d'animaux qu'ils chassent.
Sédentaire	A cette époque les hommes ont un habitat fixe.

6 – A quel moment a vécu l'homme de Tautavel ? Comment s'appelle cette période de la Préhistoire ? Surligne les bonnes réponses.

Au Paléolithique	Au Néolithique	A l'Age de métal
Il y a 50 000 ans	Il y a 450 000 ans	Il y a 4 millions d'années

7 – Qu'est-ce qui montrait l'intelligence de l'homme de Tautavel ? Surligne la bonne réponse.

Il jouait aux échecs.	Il fabriquait des outils.	Il écrivait.
-----------------------	---------------------------	--------------

8 – Quels sont les animaux chassés par l'homme de Tautavel ? Surligne deux bonnes réponses.

le castor	le lapin	le bison	le cochon
le lynx	le mouflon	le renne	la grenouille

9 – Quels sont les outils fabriqués par l'homme de Tautavel ? Surligne deux bonnes réponses.

une clé à molette	un racloir	une scie	une pointe
un biface	un tournevis	un serre-joint	un chopper

10 – Explique ce qu'est un archéologue :

C'est une personne dont le métier est de et
les du passé.

11 – Ecris « Préhistoire » dans le bon morceau de la frise.

Choisis parmi ce qui t'est proposé dans les étiquettes : Ecris la date et l'événement qui marquent la fin de la préhistoire.