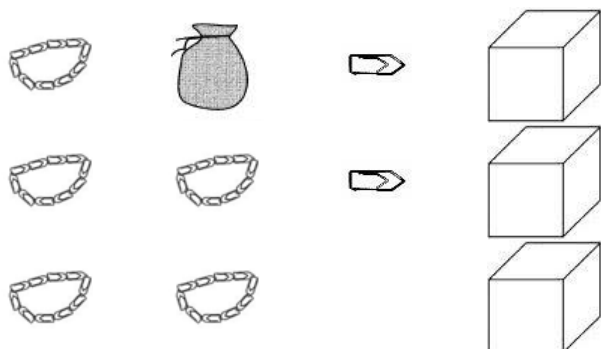


1 – Pour chaque collection écris le nombre d'objets :

Collection a*

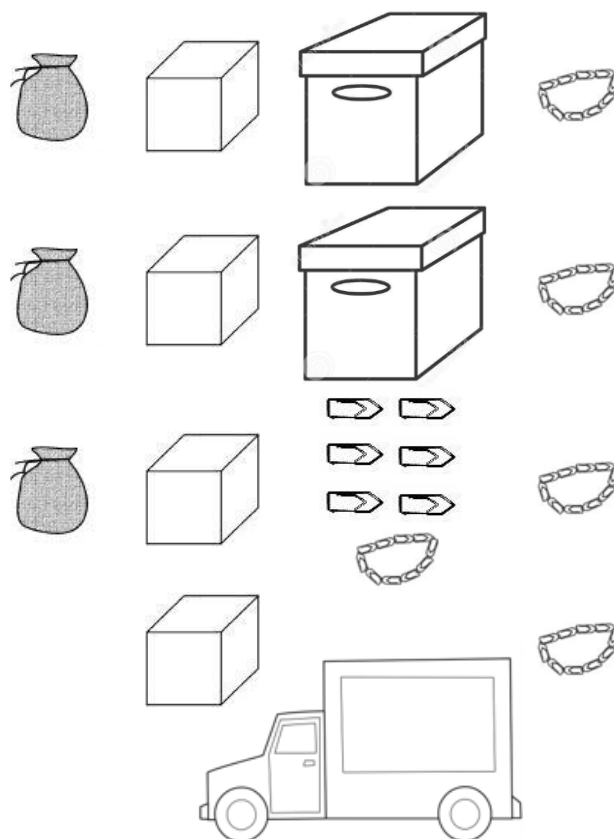


Il y a trombones.

Ecris ce nombre avec des mots :

.....
.....

Collection b**



Il y a trombones.

Ecris ce nombre avec des mots :

.....
.....
.....

2 – Dessine les collections suivantes :

*** trois- mille- quarante-sept trombones**

**** deux- cent-trente-huit-mille-cinq-cents trombones**

3 – Complète la suite des nombres :

			5000*			
--	--	--	--------------	--	--	--

		4029*				
--	--	--------------	--	--	--	--

			653 000**	
--	--	--	------------------	--

	742 589**			
--	------------------	--	--	--

4 – Dictée de nombres.

a*	b*	c*	d**	e**	f**

5 - Ecris ces nombres avec des chiffres :

a*	cinq-mille-huit-cents	
b*	sept-mille-deux-cent-quatre-vingt-treize	
c*	mille-trois-cents-cinq	
d*	huit-mille-neuf	
e*	six-mille-deux-cent-cinquante-trois	

f**	deux-cent-trente-huit-mille	
g**	cinq-cent-mille-un	
h**	huit-cent-soixante-quinze-mille-six-cent-trente-sept	
i**	trois-cent-quatre-vingt-douze-mille-trente	
j**	sept-cent-quarante-mille-six-cents	

6 - Surligne le plus grand des deux nombres.

*

5 863	5 683	7 003	7 300	9 567	9 765
-------	-------	-------	-------	-------	-------

**

685 000	680 500	293 471	239 471
906 743	907 643	802 763	800 763

7 – Ecris ces nombres avec des mots.

*	
5 678	
2 037	
1 503	
**	
296 478	
600 089	
200 047	

8 – Complète :

* Dans 8 527	* * Dans 584 261
8 est le chiffre des et vaut	5 est le chiffre des et vaut
5 est le chiffre des et vaut	8 est le chiffre des et vaut
2 est le chiffre des et vaut	4 est le chiffre des et vaut
7 est le chiffre des et vaut	2 est le chiffre des et vaut
	6 est le chiffre des et vaut
	1 est le chiffre des et vaut

9 – Complète.

* Dans 7 653	** Dans 528 491
..... est le chiffre des dizaines. est le nombre de dizaines. est le chiffre des dizaines. est le nombre de dizaines.
..... est le chiffre des centaines. est le nombre de centaines. est le chiffre des centaines. est le nombre de centaines.
 est le chiffre des unités de mille. est le nombre d'unités de mille.

10 – Range les nombres en ordre croissant.

<p>*</p> <table border="1" style="width: 100%; border-collapse: collapse;"> <tr> <td style="width: 25%; text-align: center;">6 358</td> <td style="width: 25%; text-align: center;">3 586</td> <td style="width: 25%; text-align: center;">5 999</td> <td style="width: 25%; text-align: center;">5 856</td> </tr> <tr> <td colspan="4" style="height: 40px; vertical-align: bottom;"> <p>.....</p> </td> </tr> </table>	6 358	3 586	5 999	5 856	<p>.....</p>				<p>**</p> <table border="1" style="width: 100%; border-collapse: collapse;"> <tr> <td style="width: 33%; text-align: center;">835 678</td> <td style="width: 33%; text-align: center;">853 678</td> <td style="width: 33%; text-align: center;">678 835</td> </tr> <tr> <td colspan="3" style="height: 40px; vertical-align: bottom;"> <p>.....</p> </td> </tr> </table>	835 678	853 678	678 835	<p>.....</p>		
6 358	3 586	5 999	5 856												
<p>.....</p>															
835 678	853 678	678 835													
<p>.....</p>															

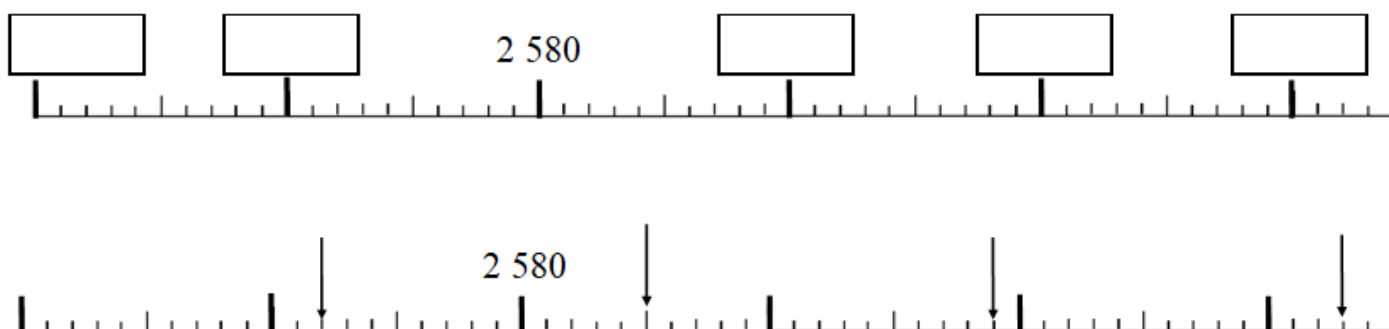
11 - Complète le tableau :

juste avant		juste après
	5 209 *	
	3 000 *	
	6 999 *	
	687 000 **	
	357 999 **	
	254 099 **	

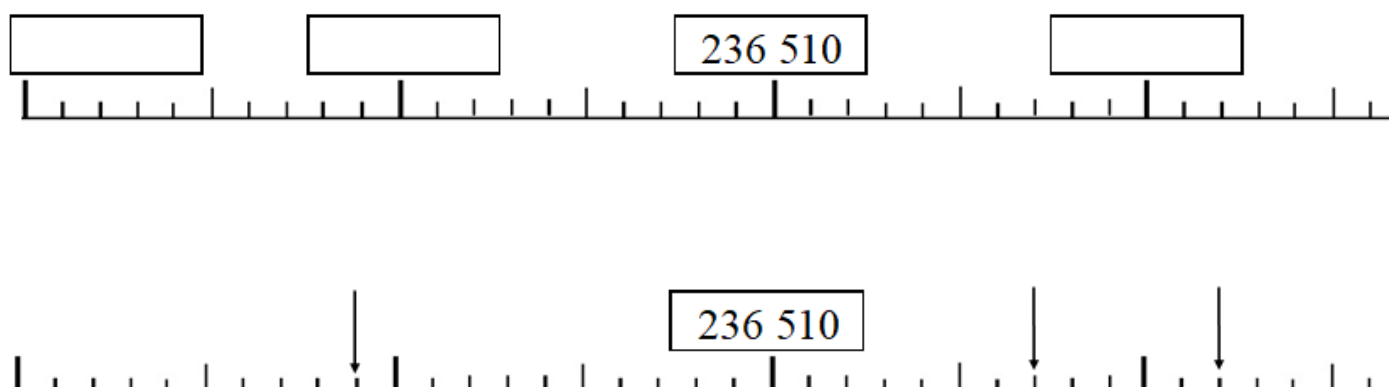
12 – Encadre :**

dizaine avant		dizaine après
	856 743	
centaine avant		centaine après
	856 743	
unité de mille avant		unité de mille après
	856 743	

13* - Ecris les nombres.



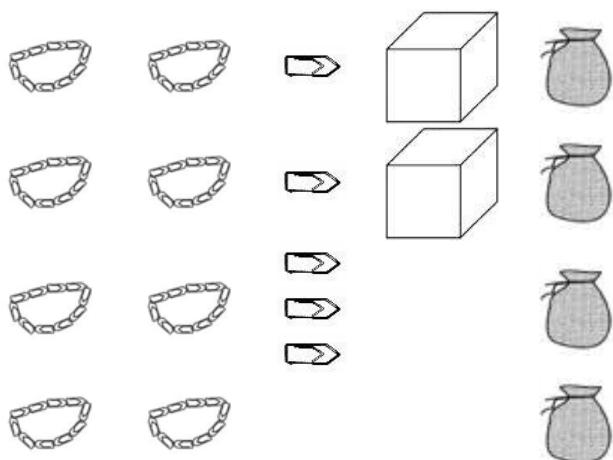
14 - Ecris les nombres.**



Les nombres jusque 9 999* - 999 999**

1 – Pour chaque collection écris le nombre d'objets :

Collection a*

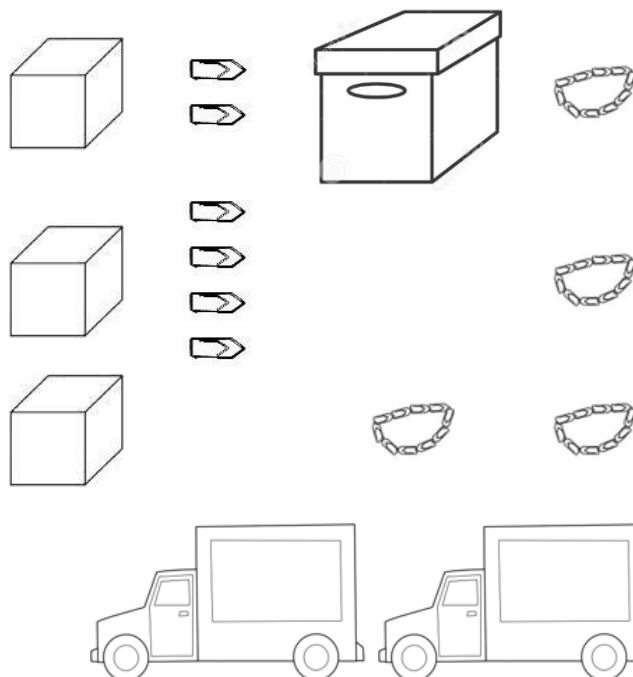


Il y a trombones.

Ecris ce nombre avec des mots :

.....

Collection b**



Il y a trombones.

Ecris ce nombre avec des mots :

.....

2 – Dessine les collections suivantes :

* six- mille- cinq-cent-sept trombones

** trois- cent -mille-six-cent-huit trombones

3 – Complète la suite des nombres :

			7000*			
--	--	--	--------------	--	--	--

		5049*				
--	--	--------------	--	--	--	--

			728 000**	
--	--	--	------------------	--

	635 699**			
--	------------------	--	--	--

4 – Dictée de nombres.

a*	b*	c*	d**	e**	f**

5 - Ecris ces nombres avec des chiffres :

a*	sept-mille-neuf-cents	
b*	cinq-mille-trois-cent-quatre-vingt-seize	
c*	mille-deux-cents-six	
d*	deux-mille-quatre	
e*	huit-mille-trois-cent-soixante-dix-huit	

f**	trois-cent-cinquante-sept-mille	
g**	six-cent-mille-deux	
h**	cinq-cent-soixante-seize-mille-quatre-cent-soixante-deux	
i**	neuf-cent-quatre-vingt-onze-mille-soixante	
j**	cinq-cent-trente-mille-neuf-cents	

6 - Surligne le plus grand des deux nombres.

*

8 502	2 085	9 002	6 999	3 897	3 987
-------	-------	-------	-------	-------	-------

**

302 758	302 578	784 029	784 209
850 417	805 417	801 275	802 751

7 – Ecris ces nombres avec des mots.

*	
3 276	
5 024	
1 789	
**	
528 379	
700 093	
102 056	

8 – Complète :

<p style="text-align: center;">* Dans 3 574</p> <p>4 est le chiffre des et vaut</p> <p>7 est le chiffre des et vaut</p> <p>5 est le chiffre des et vaut</p> <p>3 est le chiffre des et vaut</p>	<p style="text-align: center;">* * Dans 963 257</p> <p>7 est le chiffre des et vaut</p> <p>5 est le chiffre des et vaut</p> <p>2 est le chiffre des et vaut</p> <p>3 est le chiffre des et vaut</p> <p>6 est le chiffre des et vaut</p> <p>9 est le chiffre des et vaut</p>
---	---

9 – Complète.

<p style="text-align: center;">* Dans 6 582</p> <p>..... est le chiffre des dizaines. est le nombre de dizaines.</p> <p>..... est le chiffre des centaines. est le nombre de centaines.</p>	<p style="text-align: center;">** Dans 685 072</p> <p>..... est le chiffre des dizaines. est le nombre de dizaines.</p> <p>..... est le chiffre des centaines. est le nombre de centaines.</p> <p>..... est le chiffre des unités de mille. est le nombre d'unités de mille.</p>
---	--

10 – Range les nombres en ordre croissant.

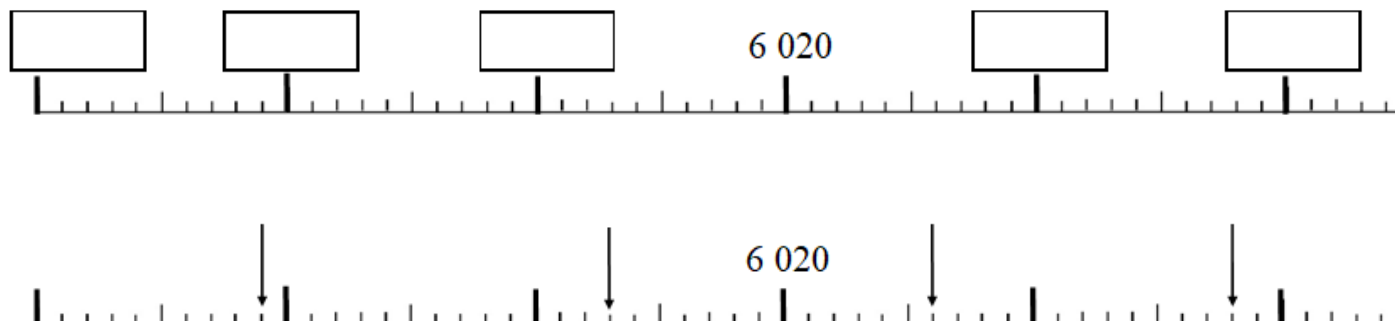
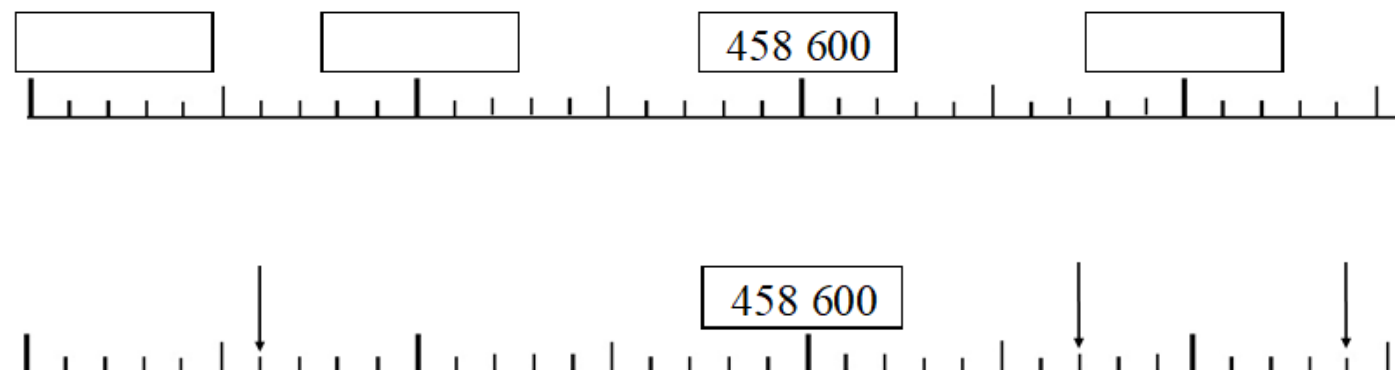
<p>*</p> <table border="1" style="width: 100%; border-collapse: collapse;"> <tr> <td style="width: 25%; text-align: center;">2 630</td> <td style="width: 25%; text-align: center;">5 001</td> <td style="width: 25%; text-align: center;">2 036</td> <td style="width: 25%; text-align: center;">3 968</td> </tr> <tr> <td colspan="4" style="height: 40px; vertical-align: bottom;">.....</td> </tr> </table>	2 630	5 001	2 036	3 968				<p>**</p> <table border="1" style="width: 100%; border-collapse: collapse;"> <tr> <td style="width: 33%; text-align: center;">362 047</td> <td style="width: 33%; text-align: center;">326 047</td> <td style="width: 33%; text-align: center;">302 647</td> </tr> <tr> <td colspan="3" style="height: 40px; vertical-align: bottom;">.....</td> </tr> </table>	362 047	326 047	302 647		
2 630	5 001	2 036	3 968												
.....															
362 047	326 047	302 647													
.....															

11 - Complète le tableau :

juste avant		juste après
	6 309 *	
	5 000 *	
	6 999 *	
	258 000 **	
	534 999 **	
	357 099 **	

12 – Encadre :**

dizaine avant		dizaine après
	985 634	
centaine avant		centaine après
	985 634	
unité de mille avant		unité de mille après
	985 634	

13* - Ecris les nombres.**14** - Ecris les nombres.**

Signature :

NA	PA	A	Prénom : / / 20 . .
			Evaluation <input type="checkbox"/> * aménagée <input type="checkbox"/> ** ordinaire
			* Maîtriser les nombres jusque 9 999
			** Maîtriser les nombres jusque 999 999

1 – Pour chaque collection écris le nombre d'objets :

<p><u>Collection a*</u></p> <div style="display: flex; justify-content: space-around;"> <div> </div> <div> </div> </div> <p>Il y a trombones.</p> <p><u>Ecris ce nombre avec des mots :</u></p> <p>.....</p> <p>.....</p>	<p><u>Collection b**</u></p> <div style="display: flex; justify-content: space-around;"> <div> </div> <div> </div> </div> <p>Il y a trombones.</p> <p><u>Ecris ce nombre avec des mots :</u></p> <p>.....</p> <p>.....</p>
---	--

2 – Dessine les collections suivantes :

<p>* trois- mille- sept-cent-quarante-deux trombones</p> 	<p>** deux- cent-trente- mille - soixante-quatre trombones</p>
---	---

3 – Complète la suite des nombres :

			9000*			
--	--	--	-------	--	--	--

		2079*				
--	--	-------	--	--	--	--

			584 000**	
--	--	--	-----------	--

	365 999**			
--	-----------	--	--	--

4 – Dictée de nombres.

a*	b*	c*	d**	e**	f**

5 - Ecris ces nombres avec des chiffres :

a*	cinq-mille-huit-cents	
b*	trois-mille-six-cent-quatre-vingt-dix-huit	
c*	mille-trois-cent-sept	
d*	six-mille-neuf	
e*	deux-mille-quatre-cent-soixante-quinze	

f**	trois-cent-soixante-dix-sept-mille	
g**	quatre-cent-mille-neuf	
h**	huit-cent-soixante-trois-mille-quatre-cent-soixante-dix-neuf	
i**	cinq-cent-quatre-vingt-treize-mille-cinquante	
j**	neuf-cent-vingt-mille-six-cents	

6 - Surligne le plus grand des deux nombres.

*

5 028	5 208	8 517	8 571	5 638	5 383
-------	-------	-------	-------	-------	-------

**

853 027	853 720	382 604	362 804
900 284	902 084	856 437	856 347

7 – Ecris ces nombres avec des mots.

*	
5 273	
6 038	
9 200	
**	
620 307	
200 394	
704 093	

8 – Complète :

<p>* Dans 6 847</p> <p>6 est le chiffre des et vaut</p> <p>8 est le chiffre des et vaut</p> <p>4 est le chiffre des et vaut</p> <p>7 est le chiffre des et vaut</p>	<p>** Dans 681 329</p> <p>6 est le chiffre des et vaut</p> <p>8 est le chiffre des et vaut</p> <p>1 est le chiffre des et vaut</p> <p>3 est le chiffre des et vaut</p> <p>2 est le chiffre des et vaut</p> <p>9 est le chiffre des et vaut</p>
---	--

9 – Complète.

<p>* Dans 8 524</p> <p>..... est le chiffre des dizaines. est le nombre de dizaines.</p> <p>..... est le chiffre des centaines. est le nombre de centaines.</p>	<p>** Dans 850 379</p> <p>..... est le chiffre des dizaines. est le nombre de dizaines.</p> <p>..... est le chiffre des centaines. est le nombre de centaines.</p> <p>..... est le chiffre des unités de mille. est le nombre d'unités de mille.</p>
---	--

10 – Range les nombres en ordre croissant.

<p>*</p> <table border="1" style="width: 100%; border-collapse: collapse;"> <tr> <td style="width: 25%; text-align: center;">4 650</td> <td style="width: 25%; text-align: center;">3 240</td> <td style="width: 25%; text-align: center;">4 399</td> <td style="width: 25%; text-align: center;">3 024</td> </tr> <tr> <td colspan="4" style="height: 40px; vertical-align: bottom;">.....</td> </tr> </table>	4 650	3 240	4 399	3 024				<p>**</p> <table border="1" style="width: 100%; border-collapse: collapse;"> <tr> <td style="width: 33%; text-align: center;">305 084</td> <td style="width: 33%; text-align: center;">804 305</td> <td style="width: 33%; text-align: center;">305 804</td> </tr> <tr> <td colspan="3" style="height: 40px; vertical-align: bottom;">.....</td> </tr> </table>	305 084	804 305	305 804		
4 650	3 240	4 399	3 024												
.....															
305 084	804 305	305 804													
.....															

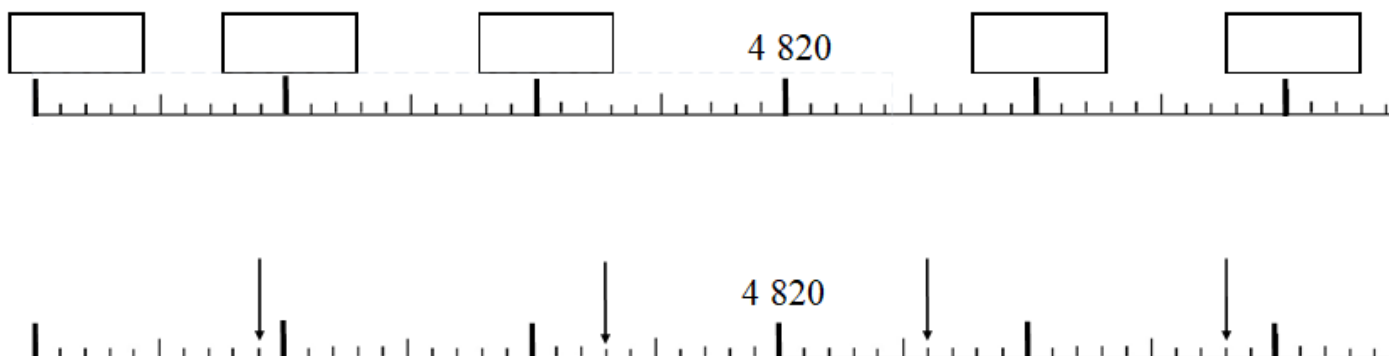
11 - Complète le tableau :

juste avant		juste après
	6 000 *	
	7 409 *	
	2 999 *	
	365 000 **	
	368 999**	
	634 099**	

12 – Encadre :**

dizaine avant		dizaine après
	763 584	
centaine avant		centaine après
	763 584	
unité de mille avant		unité de mille après
	763 584	

13* - Ecris les nombres.



14 - Ecris les nombres.**

